


1 V obchodě s hračkami mají _____ míčů a _____ koníčků.
Kolik je to celkem hraček?



Vyznač 10 hraček.

Znázorni:

Vyznač desítku.

Vypočítej:

Napiš odpověď:

2 Znázorni a vypočítej.

3 Opakuuj.

	$5 + 5 + 1 =$	$5 + 6 =$
		$5 + 7 =$
		$5 + 8 =$
		$5 + 9 =$

$7 + 4$	$6 + 5$
$8 + 8$	$7 + 6$
$9 + 4$	$6 + 6$
$8 + 5$	$7 + 7$


4 Paní učitelka dostala 5 žlutých tulipánů a 7 červených.
Kolik tulipánů má paní učitelka celkem?

Znázorni:

Vyznač desítku.

Vypočítej:

Napiš odpověď:

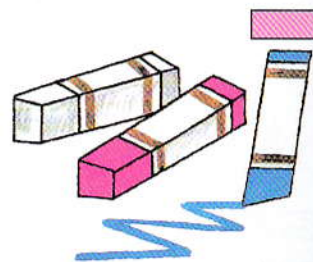


5 Ve škole máme 14 kříd bílých, 3 modré a 2 červené.
Kolik máme celkem kříd?

Znázorni:

Vypočítej:


Napiš odpověď:

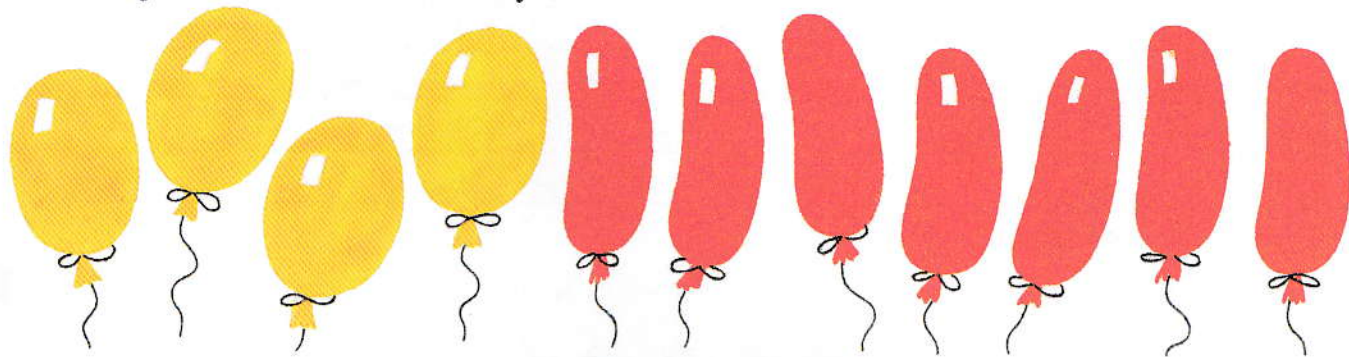


6 Procvičuj.



$5 + \underline{\quad} = 6$	$5 + 9 = \underline{\quad}$	$6 + 7 = \underline{\quad}$	$9 + 8 = \underline{\quad}$	$8 + 7 = \underline{\quad}$
$5 + \underline{\quad} = 9$	$5 + 7 = \underline{\quad}$	$6 + 6 = \underline{\quad}$	$8 + 9 = \underline{\quad}$	$9 + 7 = \underline{\quad}$
$5 + \underline{\quad} = 7$	$5 + 6 = \underline{\quad}$	$6 + 8 = \underline{\quad}$	$7 + 8 = \underline{\quad}$	$8 + 3 = \underline{\quad}$
$5 + \underline{\quad} = 8$	$5 + 8 = \underline{\quad}$	$7 + 7 = \underline{\quad}$	$6 + 9 = \underline{\quad}$	$9 + 9 = \underline{\quad}$

- 1 Na vesnici přijela pouť. Ve střelnici měli ____ žluté balóanky a ____ červených. 
Kolik je to celkem balóanky? Vyznač 10 balóanky.





Znázorni:

Vyznač desítku.

Vypočítej:

Napiš odpověď:

- 2 Ve střelnici byly ještě opičky. Měli tam ____ opičky bílé a ____ hnědých. 
Kolik tam bylo celkem opiček? Vyznač 10 opiček.



Znázorni:

Vyznač desítku.







Vypočítej:

Napiš odpověď:


- 3 Znázorni a vypočítej.



- 4 Opakuj. 

	$4 + 6 + 1 =$	$4 + 7 =$
		$4 + 8 =$
		$4 + 9 =$
	$3 + 7 + 1 =$	$3 + 8 =$
		$3 + 9 =$
	$2 + 8 + 1 =$	$2 + 9 =$

$5 + 7$	$8 + 8$
$6 + 5$	$6 + 6$
$7 + 8$	$9 + 9$
$5 + 8$	$7 + 7$
$6 + 7$	$9 + 4$
$5 + 9$	$8 + 6$

- 5 Ve střelnici mají 4 trumpety velké a 8 malých. Kolik trumpet mají celkem? 

Znázorni:

Vyznač desítku.

Vypočítej:

Napiš odpověď:



1 Změň pořadí sčítanců a vypočítej.

$4 + 7 =$	$3 + 9 =$	$4 + 8 =$	$5 + 9 =$	$6 + 5 =$
$7 + 4 =$				
$2 + 9 =$	$4 + 9 =$	$3 + 7 =$	$5 + 8 =$	$5 + 7 =$

Jestliže změníme pořadí sčítanců, jejich součet se _____.

2 Ivan má 7 bonbónů. Dáša má o 8 bonbónů více. Kolik bonbónů má Dáša?

Má o 8 více, musíme...

Nakresli: Ivan má:
Dáša má:



Vypočítej:

Napiš odpověď:

3 Miloš uspořil 18 korun. Jana uspořila o 7 korun méně. Kolik korun uspořila Jana?

Má o 7 méně, musíme...

Vyznač desítku.

Nakresli: Miloš má:
Jana má:



Vypočítej:

Napiš odpověď:

4 Vypočítej. Dokážeš vypočítat příklady i bez počítadla a číselné osy?

$8 + 5 =$	$8 + 6 =$	$7 + 8 =$	$5 + 6 =$	$2 + 9 =$
$9 + 8 =$	$7 + 4 =$	$8 + 8 =$	$7 + 9 =$	$3 + 8 =$
$7 + 6 =$	$9 + 5 =$	$9 + 7 =$	$9 + 9 =$	$4 + 9 =$
$9 + 4 =$	$9 + 3 =$	$7 + 5 =$	$6 + 8 =$	$6 + 6 =$

Popros někoho z rodičů nebo ze známých, aby ti pomohl změřit čas:

_____ počítal/a bez počítadla: počet chyb _____ čas _____
s počítadlem: počet chyb _____ čas _____

5 Změň pořadí sčítanců a vypočítej.

$2 + 9 =$	$3 + 8 =$	$4 + 9 =$	$3 + 9 =$	$4 + 8 =$


6 Jára namaloval 6 jablíček a 7 hrušek. Kolik kusů ovoce je to celkem?

Znázorni:

Vyznač desítku.


Vypočítej:

Napiš odpověď:



OPAKOVÁNÍ A PROCVIČOVÁNÍ UČIVA GEOMETRIE

Narýsuj čtverce, obdélníky a trojúhelníky. Kruh vybarvi žlutě. Dopiš správné názvy.



Spoj dané body tak, aby vznikl
1 obdélník a 1 trojúhelník.

Spoj dané body tak, aby vznikly
3 trojúhelníky.